


ТАКМИЧЕЊЕ УЧЕНИКА ОСНОВНИХ ШКОЛА РЕПУБЛИКЕ СРБИЈЕ  
**"ШТА ЗНАШ О САОБРАЋАЈУ"**

ДН ОС


ШК-Ц-44



1. Возач црвеног путничког аутомобила у ситуацији на слици, претиче теретно возило на месту на коме је претицање:
- а) забрањено ознакама на коловозу .....  **4**
- б) дозвољено .....
- ц) забрањено правилима саобраћаја .....



2. Пешак у ситуацији на истој слици, креће се:
- а) прописно, уз десну ивицу коловоза .....  **3**
- б) непрописно .....
- ц) путем на коме је кретање пешацима забрањено .....



3. Пешак се креће, у ситуацији на слици путем на коме је његово кретање:
- а) дозвољено .....  **4**
- б) забрањено .....
- ц) дозвољено, ако се креће уз леву ивицу коловоза у смеру кретања .....

4. Пут којим се креће пешак, у ситуацији на истој слици назива се:
- а) некатегорисани пут .....  **4**
- б) аутопут .....
- ц) мотопут .....

5. У ситуацији на слици возач бицикла:
- а) има првенство пролаза у односу на трамвај .....  **4**
- б) дужан је да пропусти трамвај .....
- ц) дужан је да пропусти и трамвај и сва возила која се крећу тим путем .....

6. Саобраћајни знак на путу којим се креће трамвај значи да је то:
- а) пут са првенством пролаза .....  **3**
- б) пружање пута са првенством пролаза .....
- ц) укрштање са путем са првенством пролаза .....

7. Ако је на бициклу уграђено посебно седиште, прилагођено величини детета и чврсто спојено са бициклом, возач бицикла старији од 18 година:
- а) може на бициклу превозити дете до девет година старости .....  **3**
- б) не сме превозити дете до шест година старости .....
- ц) може на бициклу превозити дете до осам година старости .....



www.ams.co.rs  
 Кориснички центар: 0800 009 009  
 Централа: 011 30 84 900



8 Водач лаког трицикла за своје кретање може да користи:

- а) зауставну траку .....
- б) бициклическу траку .....
- ц) бициклическу стазу .....

3



9. Пешак прелази преко коловоза у ситуацији на слици, на обележеном пешачком прелазу:

- а) прописно .....
- б) непрописно .....
- ц) дужан је да стане и пропусти црвени путнички аутомобил .....


3

10. У ситуацији на истој слици, црвени путнички аутомобил:

- а) има првенство пролаза у односу на пешака и возача бицикла .....
- б) дужан је да пропусти само пешака .....
- ц) дужан је да пропусти и пешака и возача бицикла .....

3



11. Водач плавог путничког аутомобила, у ситуацији на истој слици скреће улево:

- а) непрописно .....
- б) прописно из одговарајуће саобраћајне траке .....
- ц) прописно, ако скреће из крајње леве саобраћајне траке .....

3

12. Пут којим се возила крећу, у ситуацији на истој слици има:

- а) једну коловозну траку .....
- б) две коловозне траке .....
- ц) три коловозне траке .....

2



13. Водач трамваја у ситуацији на слици:

- а) има првенство пролаза у односу и на путнички аутомобил и на бицикл .....
- б) дужан је да пропусти само путнички аутомобил .....
- ц) дужан је да пропусти и путнички аутомобил и бицикл .....

3

14. Водач бицикла у ситуацији на истој слици:

- а) има првенство пролаза у односу и на путнички аутомобил и на трамвај .....
- б) дужан је да пропусти само путнички аутомобил .....
- ц) дужан је да пропусти и путнички аутомобил и трамвај .....

3



15. Водачу плавог путничког аутомобила у ситуацији на слици, претицање теретног возила је:

- а) дозвољено .....
- б) забрањено саобраћајним знаком .....
- ц) забрањено ознакама на коловозу .....

3

16. Брзина кретања возила на путу, у ситуацији на истој слици је ограничена на:

- а) 120 km/h .....
- б) 100 km/h .....
- ц) 80 km/h .....

2





17. Према ситуацији на слици, преко раскрснице је дозвољен пролаз :
- a) само аутобусу и белом путничком аутомобилу .....
  - b) свим возилима .....
  - c) аутобусу, белом путничком аутомобилу и мотоциклу.

3

18. Возач мотоцикла у ситуацији на истој слици:
- a) има првенство пролаза у односу на аутобус .....
  - b) дужан је да пропусти аутобус .....
  - c) скретање може извршити истовремено када аутобус прелази преко раскрснице .....

3



19. У ситуацији на слици возач теретног возила наилази на раскрсницу, крећући се:
- a) путем са првенством пролаза .....
  - b) путем који се укршта са путем са првенством пролаза .....
  - c) путем исте важности као и пут на који наилази .....

3

20. Возач мотоцикла у ситуацији на истој слици:
- a) има првенство пролаза у односу на сва возила .....
  - b) дужан је да пропусти и теретно возило и путнички аутомобил .....
  - c) дужан је да пропусти само путнички аутомобил .....

3


21. Возач који гура ручна колица, бицикл, мопед или мотоцикл мора се кретати:
- a) левом страном коловоза у смеру кретања уз леву ивицу коловоза .....
  - b) десном страном коловоза у смеру кретања уз десну ивицу коловоза .....
  - c) било уз леву било уз десну ивицу коловоза .....

3



22. Десна рука подигнута вертикално са дланом отворене шаке усмереним према лево - значи:
- a) дозвољен пролаз возилима која му долазе са бочних страна .....
  - b) забрану пролаза за све возаче, осим за оне возаче чија се возила у часу када полицијски службеник подигне руку, не могу на безбедан начин зауставити.
  - c) да возачи смање брзину кретања свог возила .....

4



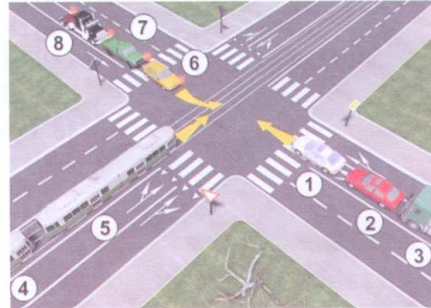
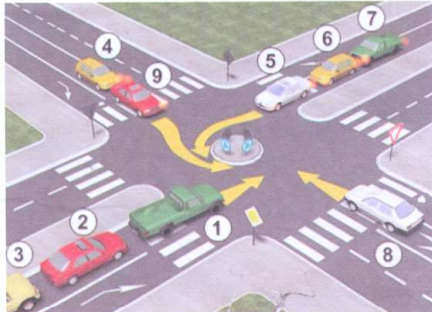
23. У ситуацији на слици пешаци који прелазе преко коловоза на обележеном пешачком прелазу:
- a) имају првенство пролаза у односу на сва возила у раскрсници .....
  - b) дужни су да пропусти сва возила у раскрсници .....
  - c) дужни су да пропусти само возила под пратњом .....

3

24. У ситуацији на истој слици, жути путнички аутомобил:
- a) има првенство пролаза у односу на возила под пратњом и пешаке .....
  - b) мора да пропусти само возила под пратњом .....
  - c) мора да пропусти и возила под пратњом и пешаке ...

3

25-26. У поља испод слике упиши бројеве који се налазе поред возила по редоследу проласка кроз раскрсницу:

4

4

27. У поља испод сваког саобраћајног знака уписати редни број који је испред описа њиховог значења.



1



2



1



2



2



2



2



2



2



1

1. Ограничење брзине
2. Укрштање са споредним путем под правим углом
3. Зона школе
4. Затварање саобраћајне траке
5. Путоказна табла
6. Деца на путу

7. Путоказ за излаз
8. Сужење пута с десне стране
9. Зона 30
10. Укрштање путева исте важности
11. Најмање дозвољена брзина
12. Спајање са споредним путем под правим углом с леве стране

### НАШИ ПРИЈАТЕЉИ!

(Стартни број, име и презиме)

(назив-разред/школа/екипа)

100 -  =

Негативних Поена      УКУПНО Поена



CIP - Каталогизација у публикацији Народна библиотека Србије, Београд

ISBN: 978-86-905477-1-5  
COBISS.SR-ID 128269324